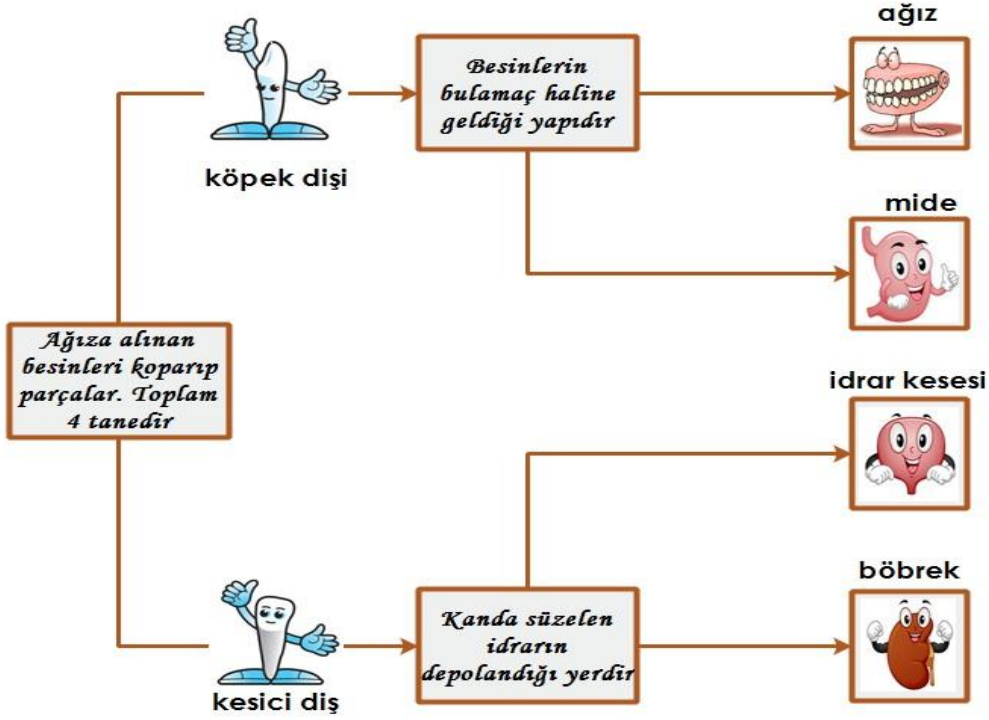
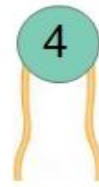


# 5. SINIF BİLİM UYGULAMA DERSİ ERTUĞRULGAZİ ORTAOKULU 1.DÖNEM 1 YAZILI

A )Aşağıdaki ifadeleri takip ederek doğru sonuca ulaşınız.(10)



B)Karışık olarak verilen organlar hangi sisteme aitse numarasını ait olduğu kutuya yazınız.(40)



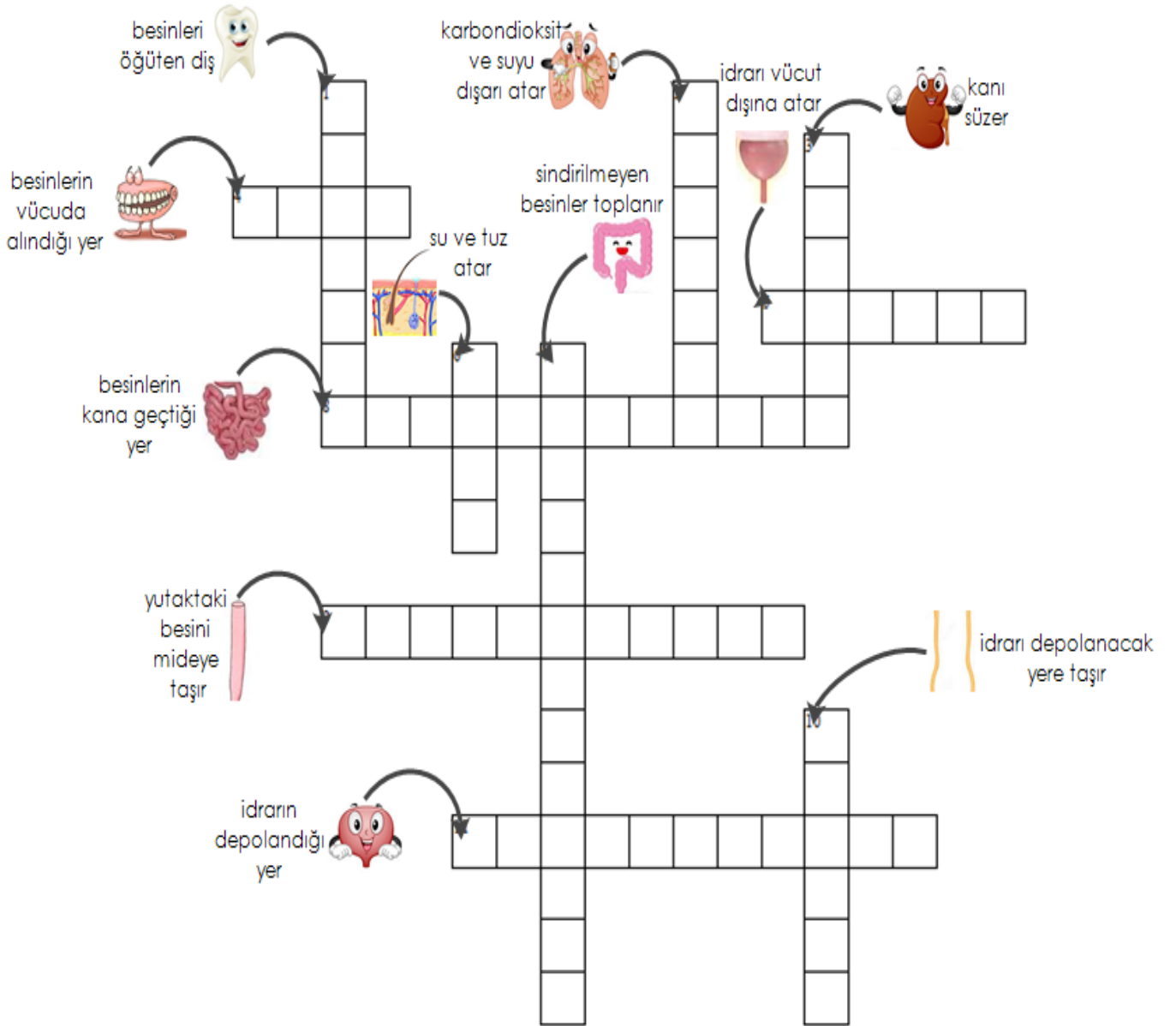
SİNDİRİM SİSTEMİ


BOŞALTIM SİSTEMİ


# 5. SINIF BİLİM UYGULAMA DERSİ ERTUĞRULGAZİ ORTAOKULU 1.DÖNEM 1 YAZILI

C) Resimler ve açıklamalardan yola çıkarak bulmacayı doldurunuz.(4.11 )

3



D)Parmak ızideneyını anlatınız.(6) ADI SOYADI

SINIF VE NUMARASI