


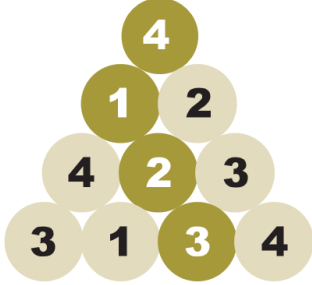
Adı Soyadı:

Sınıfı:

Okul No:


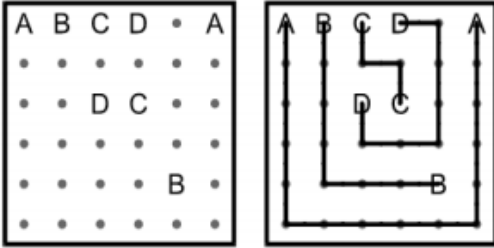
1- Sihirli piramidin tepesinden, birbirine bağlı çemberler boyunca ilerleyerek tabana ulaşın. Yol boyunca her sayı bir kez kullanılmalıdır.

örnek



2- Tüm noktaları kullanarak aynı harfleri birbirine bağlayın. Yalnızca yatay ve dikey çizgiler kullanın ve bağlantılarınızın kesişmemesine dikkat edin.

Örnek



3-

