









Adı:
Soyadı:

TEMEL BİLGİSAYAR KURSU SINAV SORULARI

- 1- Aşağıdakilerden hangisi masaüstündeki bir klasörü açmak için yapılacak fare hareketidir?
a) Sağ tıklama b) Sağ çift tıklama
c) Sol tıklama d) Sol çift tıklama
- 2- Genellikle bir seçenek, pencere yada işlemden çıkmak için kullanılan tuş aşağıdakilerden hangisidir?
a) Enter b) Esc
c) Backspace d) Alt
- 3- Aşağıdakilerden hangisi bilgisayarın iç donanım birimidir?
a) CPU b) Monitör
c) Klavye d) Fare
- 4- Windows'ta kopyalama amacıyla birden fazla dosyayı tek tek seçebilmeyi sağlayan tuş hangisidir?
a) Tab b) Insert
c) Ctrl d) Alt
- 5- 8 karakter boşluk vermek yada paragraf yapmak için kullanılan tuş aşağıdakilerden hangisidir?
a) Shift b) Backspace
c) Home d) Tab
- 6- Windows işletim sistemini kapatmak için aşağıdakilerden yöntemlerden hangisi kullanılır?
a) Bilgisayarım / Oturumu kapat
b) Başlat / Bilgisayarı kapat / Kapat
c) Başlat / Ayarlar / Oturumu kapat
d) Başlat / Bul / Oturumu kapat
- 7- Windows'a girildiğinde ekrana gelen ilk görüntüye ne denir?
a) Bilgisayarım b) Denetim masası c) Masaüstü
d)Görev çubuğu
- 8- Aşağıdakilerden hangisi donanım parçası değildir?
a) Kasa b)Ekran c)Klavye d)Windows
- 9- Bilgisayarda bulunan bilgiyi kâğıda aktarmak amacıyla kullanılan donanım birimine ne ad verilir?
a) Scanner (tarayıcı) b)Plotter (çizici) c)Printer (yazıcı) d)Monitör (ekran)
- 10- Programların ve verilerin kullanıldıkları zaman geçici olarak depolandıkları bellek birimi aşağıdakilerden hangisidir?
a) ALU b)Yardımcı bellek(ROM)
c) CPU d) Ana bellek(RAM)
- 11- Delete tuşu ile sildiğimiz dosyalar aşağıdaki masaüstü öğelerinden hangisine atılır?
a) Bilgisayarım b)Ağ komşuları
c) Geri dönüşüm kutusu d)Belgelerim
- 12- $5+3 \times 5$ işlemini Excel'e yaptırırsak sonucu kaç çıkar

a) 40 b) 50 c) 28 d) 20

- 13- İki satır arasındaki boş satırı silmek için hangi tuşa basılır
a) Alt Gr b) Backspace c) Ctrl d) Enter
- 14- Excel'de satır ve sütunların kesiştiği yere verilen isim aşağıdakilerden hangisidir?
a) İmleç b) Tablo c) Hücre d) Kitap
- 15- =EĞER(D4>50;"GEÇTİ";"KALDI") formülüne göre sonucun GEÇTİ olabilmesi için D4 hücresindeki sayının en az kaç olması gerekir?
a) 50 b) 51 c) 49 d) 60
- 16- =ORTALAMA(B3:B6) formülünün açılımı aşağıdakilerden hangisidir?
a) =B3+B4+B5+B6
b) =(B3+B5+B6) / 4
c) =B3+B4+B5+B6 / 4
d)=(B3+B4+B5+B6) / 4
- 17- E-mail (elektronik posta) hesabında ataç işareti genellikle hangi anlama gelir?
a.) Gönderilecek elektronik postanın birden fazla kişiye aynı anda gönderilmesi.
b.) Gönderilecek elektronik postanın önem derecesinin yüksek olması.
c.) Elektronik posta ile birlikte ekte dosya gönderilmesi.
d.) Birden fazla elektronik postanın aynı anda gönderilmesi.
- 18- Word'de Klavyeden yazılamayan karakterleri eklemek için aşağıdakilerden hangisi kullanılır?
a.) Biçim/Simge b.) Ekle/Nesne
c.) Düzen/Simge d.) Ekle/Simge
- 19- Powerpoint'te hazırlanan gösteriyi başlatmak için hangi tuş kullanılır?
a.) F2 b.) F4 c.) F5 d.) F7
- 20- Microsoft Excel'de Word ve Powerpoint farklı menüsü hangisidir?
a.) Tablo b.) Filtre c.) Veri d.) Slayt
- 21- Aşağıdakilerden hangisinde Microsoft Word'de yapılamaz?
a.) Tablo b.) Resim ekleme
c.) Grafik d.) Formül oluşturma

Simge 1	Simge 2	Simge 3	Simge 4	Simge 5	Simge 6	Simge 7	Simge 8
							

22- Excel’de bir hücreye;
=EĞER(8>8; “büyük”; “küçük”) formülü yazılırsa o hücredeki görüntü aşağıdakilerden hangisi olur?
A)küçük B)büyük C)10 D)8

23- A9 ve A4 hücrelerindeki değerleri toplamını A5’e bölen formül aşağıdakilerden hangisidir?
A) =A9*A4/A5 B) =A9*A4\A5
C) =(A9+A4)/A5 D)=A9*A4/A5

24- D2 hücresinde bir öğrencinin ortalama notu yazılıdır. Eğer bu not 50’den küçükse KALDI; 50’den büyük ya da eşitse GEÇTİ bilgisini yazan formül aşağıdakilerden hangisidir?
A)=EĞER(D2<49; “GEÇTİ”; “KALDI”)
B)=EĞER(D2>55; “GEÇTİ”; “KALDI”)
C)=EĞER(D2>49; “KALDI”; “GEÇTİ”)
D)=EĞER(D2<50; “KALDI”; “GEÇTİ”)

25- Windows’ta sisteme bağlı olan sürücüler (disket, harddisk, cd) nerede listelenir?
a)Denetim masası b)Bilgisayarım
c)Geri dönüşüm kutusu d)Donatılar

26- Aşağıdakilerden hangisi bilgisayarın kendi iç kayıt birimidir?
a) Disket b) CD c) Harddisk d) USB

27- Windows’ da sistem ayarları (klvaye, fare v.b) nerede yapılır?
a)Donatılar b)Disk birleştirici c)Scandisk d)Denetim masası

28- Internet Explorer penceresinde açık olan sayfayı başlangıç sayfası olarak ayarlamak için hangi yol izlenmelidir.
a.) Araçlar - Internet seçenekleri – Geçerli Olanı Kullan
b.) Araçlar - Internet seçenekleri – Varsayılanı Kullan
c.) Görünüm - Giriş Sayfası - Geçerli Olanı Kullan
d.) Görünüm - Giriş Sayfası - Varsayılanı Kullan

29- Microsoft Powerpoint programında renkleri düzenlemek için aşağıdakilerden hangisi kullanılabilir?
a.) Tasarım şablonları b.) Animasyon düzenleri c.) Slayt düzeni d.) Slayt geçişi

30- Internet Explorer penceresinde “Sık Kullanılanlar” menüsü için aşağıdaki ifadelerden hangisi doğrudur.
a.) İnternette en çok ziyaret edilen siteleri otomatik olarak burada oluşur.
b.) Kullanıcı çok sık kullandığı siteleri buraya ekleyerek bu sitelere buradan kolayca ulaşır.
c.) Kullanıcının en çok kullanıldığı siteler otomatik olarak burada oluşur.
d.) Sık kullanılan menü seçeneklerine buradan ulaşılabilir.

Yukarıdaki tabloda Microsoft Word ve Microsoft Excel araç çubuklarında bulunan bazı simgeler verilmiştir. 36. sorudan 40. soruya kadar olan soruları tabloya göre cevaplayınız.

31- Simge 3 hangi görev için kullanılır?
a) Numaralandırma yapar
b) Madde işareti ekler
c)Madde işaretini değiştirir
d) Paragraf girintisi ekler

32- Simgelerden hangisi veya hangileri sadece Microsoft Word araç çubuklarında bulunur?
a.) Simge 2 ve Simge 3 b.) Simge 4 ve Simge 6
c.) Simge 1 ve Simge 7 d.) Simge 3

33- Simgelerden hangisi veya hangileri çizim araç çubuğunda bulunur?
a.) Simge 3 ve Simge 4 b.) Simge 6 ve Simge 8
c.) Simge 4 d.) Simge 4 ve Simge 6

34- Simge 2 hangi görev için kullanılır ve kısayol tuşu nedir?
a.) Sil, Ctrl+z b.) Sil, Shift+Delete d.) Geri Al, Ctrl+g
c.) Geri al, Ctrl+z

35- Fare ile seçilmiş bir yazıyı 10 birim büyüklükte, eğik ve sayfaya ortalı yapmak için hangi simgeler kullanılmalıdır?
a.) Simge 1, Simge 3, Simge 6
b.) Simge 3, Simge 5, Simge 6
c.) Simge1, Simge 5, Simge 7
d.) Simge 1, Simge 3, Simge 7

BAŞARILAR

.....
Ders Öğretmeni
Her Soru 3 Puandır