


Adı Soyadı:  
Sınıfı:  
No:



Tarih:

Aldığı Not:




**2014-2015 EĞİTİM-ÖĞRETİM YILI ..... ORTAOKULU**  
**6.SINIF FEN BİLİMLERİ DERSİ 1.DÖNEM 3. BEP SINAV SORULARI**

1. Aşağıda verilen maddelerin altındaki kutuları "sıkıştırılabilir" ya da "sıkıştırılamaz" kelimelerini kullanarak doldurunuz.(15 puan)



Odun



Su



Gaz

2. Aşağıdaki resimlerde görülen hareketlilerin süratini küçükten büyüğe doğru sıralayınız.  
(5 puan)



1 Jet



2 Otomobil



3 Bisiklet






4 Tavşan



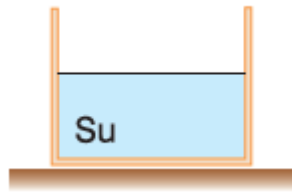
5 Kaplumbağa

 <  <  <  <

3. Aşağıda maddenin farklı hallerine ait tanecik modelleri verilmiştir. Modellerin altındaki kutulara maddenin hangi halde olduğunu "katı", "sıvı" ya da "gaz" kelimelerini kullanarak doldurunuz.(10 puan)




4. İçinde su bulunan şekildeki kaba, aşağıdakilerden hangisi atıldığında cisim kabın dibine batar? (10 puan)



A) Demir misket B) Plastik şişe kapağı

5. Aşağıdakilerden hangisi fiziksel değişime örnektir? (10 puan)

A) Fındığın ezilmesi B) Kağıdın Yanması



Yusuf 80 N, Ömer ise 40 N değerinde kuvvet uyguladığına göre halat çekme oyununu kim kazanır? (10 puan)

A) Ömer B) Yusuf

7. Aşağıdakilerden hangisi kimyasal değişime örnektir? (10 puan)

A) Kalemin kırılması B) Kağıdın yanması

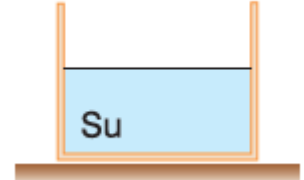
8. Aşağıdaki hareketlilerden hangisi daha süratlidir?(10 puan)



9. Aşağıdakilerden hangisi bir solunum organıdır? (10 puan)



10. İçinde su bulunan şekildeki kaba, aşağıdakilerden hangisi atıldığında cisim su üzerinde yüzer?(10 puan)



A) Silgi B) Kibrit çöpü

.....  
Fen Bilimleri Öğretmeni