

A) AŞAĞIDAKİ CÜMLELERİ DOĞRU (D)- YANLIŞ (Y) ŞEKLİNDE CEVAPLAYINIZ.

1. () Havanın yoğunluğu kaldırma kuvvetine etkili değildir.
2. () Yüzen bir cismin ağırlığı kaldırma kuvvetine eşittir.
3. () Demir su içerisine bırakılırsa yüzer.
4. () Katı ortamlar da sıvı ve gazlar gibi kaldırma kuvveti uygular.
5. () Yüzen cisimlerde sıvının kaldırma kuvveti cismin ağırlığından büyüktür.
6. () Sıvı içindeki bütün cisimler havadaki ağırlıkların göre hafifler.
7. () Yüzen cisimlerin öz kütlesi sıvının öz kütlesinden büyüktür.
8. () Sıvı içindeki bir cisme etki eden kaldırma kuvveti daima yukarı yöndedir.
9. () Sıvı içindeki bir cisme etki eden kaldırma kuvveti cismin sıvı içinde batmayan kısmının hacmine bağlıdır
10. () Sıvıdaki ağırlığı 65N olan bir cismin havadaki ağırlığı 90N ise cisme etki eden kaldırma kuvveti 25N'dur.
11. () Sıvı içine dibe batmış bir cisme herhangi bir kuvvet etki etmez.
12. () Ağzına kadar sıvı ile dolu bir kabın içine atılan cisim batan kısmının hacmi kadar sıvı taşırır.
13. () Havanın kaldırma kuvveti sadece cismin ağırlığına bağlıdır.
14. () Cismin sıvı içine batan hacmi arttıkça uygulanan kaldırma kuvveti de artar.
15. () Cismin yoğunluğu sıvının yoğunluğuna eşit olursa cisim sıvı içinde batar.
16. () Sıvının yoğunluğu arttıkça kaldırma kuvveti artar.
17. () Kaldırma kuvveti sıvının cinsine bağlı değildir
18. () Cismin yoğunluğu sıvının yoğunluğuna eşit olursa cisim sıvı içinde dengede kalır
19. () Bir cismin havadaki ve sudaki ağırlığı aynı değildir.
20. () Taşırma kabından taşan sıvının hacmi, cismin batan hacmine eşittir
21. () Kaldırma kuvveti sıvının derinliğine bağlıdır
22. () Yoğunluğu $1,5 \text{ g/cm}^3$ olan cismi suyun içine atarsam batar.
23. () Taşırma kabından taşan sıvının hacmi her zaman cismin batan hacmine eşittir.
24. () Bir cismin havadaki ağırlığı sudaki ağırlığına eşittir.
25. () Sıvı içerisine bırakılan cisim askıda ise cismin yoğunluğu sıvının yoğunluğundan büyüktür.
26. () Sıvıların kaldırma kuvveti yukarı yöndedir
27. () Bir cismin yoğunluğu, içine bırakılan sıvının yoğunluğundan küçükse cisim batar.
28. () Cismin havadaki ağırlığı sudaki ağırlığından daha küçüktür.
29. () Yüzen cisimlerin öz kütlesi sıvının öz kütlesinden büyüktür.
30. () Sıvı içindeki bütün cisimler havadaki ağırlıkların göre hafifler.
31. () Yüzen cisimlerde kaldırma kuvveti cismin ağırlığından küçüktür
32. () Batan cisimlerde kaldırma kuvveti cismin ağırlığından küçüktür
33. () Bir cismin havadaki ve sudaki ağırlığı aynıdır.
34. () Yoğunluğu $0,5 \text{ g/cm}^3$ olan cismi suyun içine atarsam batar.
35. () Sıvı içerisine bırakılan cisim askıda ise cismin yoğunluğu sıvının yoğunluğundan küçüktür
36. () Batan cisimlere etkiyen kaldırma kuvveti cismin ağırlığından küçüktür.
37. () Taşan sıvının ağırlığı sıvıya atılan cismin ağırlığına eşittir.
38. () Taşan sıvının hacmi sıvıya atılan cismin hacmine eşittir.
39. () Taşan sıvının ağırlığı cisme sıvı tarafından uygulanan kaldırma kuvvetini verir.
40. () Sıvının kaldırma kuvveti, cismin yerini değiştirdiği sıvının ağırlığı kadardır.

41. () Sıvı içindeki bütün cisimler havadaki ağırlıklarına göre ağırlaşır.

42. () Havadaki ağırlığı 65N olan bir cismin sudaki ağırlığı 40N ise cisme etki eden kaldırma kuvveti 35N'dur.

B) AŞAĞIDAKİ BOŞLUKLARI VERİLEN KAVRAMLARI KULLANARAK DOLDURUNUZ.

(derinlik,katı,şekline,sıvı,yoğunluk,kütle, şekline, basınç,batar,artar, kuvvet ,kaldırma, kuvveti, büyüktür, manometre,kaldırma kuvveti,miktarına, ağırlık,yüzey alanı,küçüktür,hacminin yüzer, ağırlık,deniz , özkütle, barometre,derinlik,miktarına,ağırlığına,yoğunluğu,hacminin,havadaki,ağırlığı,zıt)

1. Havanın yoğunluğu,suyun yoğunluğundan
2. Bir cismin havadaki ağırlığı ile sıvıdaki ağırlığı arasındaki farkeşittir.
3. Bir maddenin birim hacimdeki kütesine denir.
4. Bir cisim, yoğunluğu kendinden küçük olan bir sıvı içinde.....
5. Yoğunluğa de denir.
6. Sıvı içerisindeki cisme etki eden kaldırma kuvveti cismin zıt yöndedir.
7. Bir cisme etki eden yeri değişen sıvının ağırlığına eşittir.
8. Bir cismin kütesinin hacmine bölünmesiyle elde edilir.
9. Cisimlerin birim kütesine yoğunluk denir.
10. Cisimlere etki eden yerçekimi kuvvetine denir
11. Yoğunluğu sudan büyük olan cisimler suda
12. Bir cisim, yoğunluğu daha büyük olan bir sıvı içinde
13. Sıvılar ve gazlar cisimlere yukarı yönlü bir kuvvet uygular bu kuvvet olarak tanımlanır.
14. Batan bir cisme uygulanan kaldırma kuvveti,cismin ağırlığından
15. Sıvı içindeki maddenin batan hacmi arttıkça artar.
16. Bir sıvıda yüzen ve askıda kalan cisimlere uygulanan kaldırma kuvveti cismin..... eşittir.
17. Bir cisme etki eden kaldırma kuvveti cismin ağırlığı ile sıvıdaki ağırlığının farkı bulunarak hesaplanır.
18. Sıvı içerisinde tamamen batan bir cisim kadar sıvı taşırır.
19. Kaldırma kuvvetinin yönü, cismin ağırlığına daima yöndedir.

C) AŞAĞIDA VERİLEN TABLOLARDAKİ BOŞLUKLARI DOLDURUNUZ.

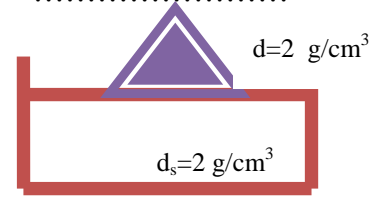
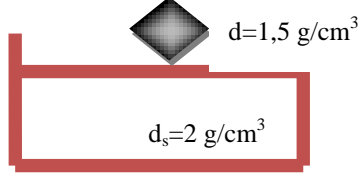
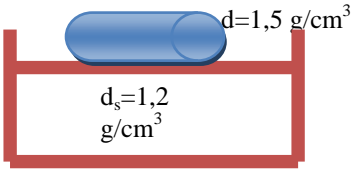
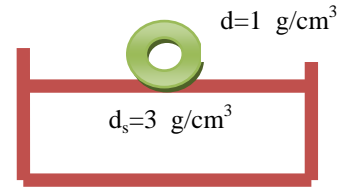
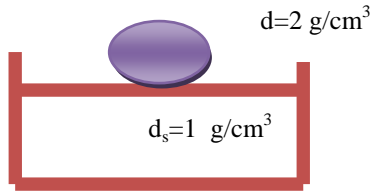
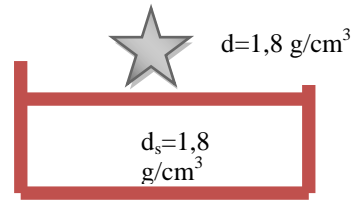
	Cismin havadaki ağırlığı	Cismin sudaki ağırlığı	Kaldırma kuvveti	Yeri değişen sıvının ağırlığı
X	1,5 N	1 N
Y	3 N	1 N
Z	2 N	0,5 N

MADDE	KÜTLE(m)	HACİM(v)	YOĞUNLUK(d)
A cismi	10 g	20 cm ³	
B cismi	40 g		1 g/ cm ³
C cismi		50 cm ³	0,5 g/ cm ³
D cismi	20 g		2 g/ cm ³

D) AŞAĞIDAKİ TABLOYU DOLDURUP HANGİ MADDELERİN AYNI OLABİLECEĞİNİ BELİRLEYİNİZ.




MADDE	KÜTLE (g)	HACİM (cm ³)	YOĞUNLUK
A	50	25	
B	250		5
C		75	2

E) Aşağıda verilen cisimler sıvı içine atıldıklarında batar mı yüzer mi yoksa askıda mı kalır, altlarına yazınız.



F) AŞAĞIDAKİ TABLODA VERİLMEYENLERİ BULUNUZ.



Yoğunluk(g/cm ³)	Kütle(g)	Hacim(cm ³)
 2 g/cm ³	30	?
 ?	40	40
 ?	50	100

G) AŞAĞIDA a, b, c ve d'de VERİLEN BİLGİLER İLE ŞEKİLLERİ OKLARLA EŞLEŞTİRİNİZ.



a) $d_{sıvı} = d_{cisim}$ b) $d_{sıvı} > d_{cisim}$ c) $d_{cisim} > d_{sıvı}$ d) $F_k = G_{cisim}$ e) $F_k < G$

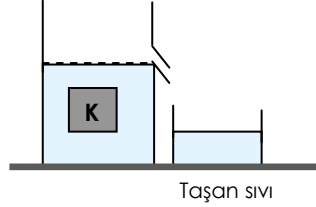
H) AŞAĞIDAKİ TABLOYU DOLDURARAK CİSİMLERİN DURUMLARINI YAZINIZ

Cisim	Kütle (g)	Hacim (cm ³)	Yoğunluk (g/cm ³)
SIVI	20	20	
	30	15	
		40	1
	50		0,5
		100	3

Yüzer / Batar /Askıda Kalır

I) AŞAĞIDAKİ ÇOKTAN SEÇMELİ TESTİ CEVAPLAYINIZ.

1. Taşma seviyesine kadar sıvı ile doldurulan bir kaba K cismi atıldığında cisim sıvıda şekildeki gibidengede kalıyor ve dışarıya bir miktar sıvı taşıyor.



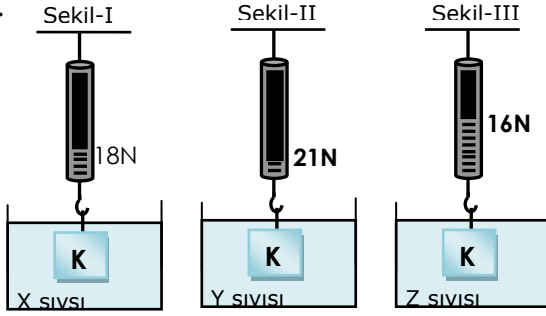
Buna göre;

- I. Taşan sıvının hacmi, K cisminin hacmine eşittir.
 II. K cismine etki eden kaldırma kuvveti, taşan sıvının ağırlığına eşittir.
 III. Cismin ağırlığı, cisme etki eden kaldırma kuvvetine eşittir.

ifadelerinden hangileri doğrudur?

- A) I ve II B) II ve III C) I ve III D) I - II ve III

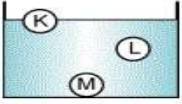
2.



X, Y ve Z sıvılarında daldırılan K cisminin bağlı olduğu dinamometrelerin gösterdiği değerler şekillerdeki gibidir. Sıvıların yoğunluklarının sıralaması hangi seçenekte verilmiştir?

- A) $X > Y > Z$ B) $Y > Z > X$ C) $Z > X > Y$ D) $X = Y = Z$

3. K, L ve M cisimlerinin sıvı içerisindeki denge durumları şekildeki gibidir. Buna göre yoğunluklarını **büyükten küçüğe** doğru sıralaması hangi seçenekte doğru olarak



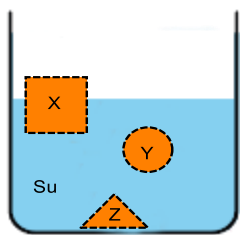
verilmiştir?

- A) $K > L > M$ B) $M > L > K$
 C) $L > M > K$ D) $M > K > L$

4. Bir cismin yoğunluğu nasıl hesaplanır?

- A) Kütle ile hacmi çarpılarak
 B) Kütle ile hacmi toplanarak
 C) Kütle hacmine bölünerek
 D) Hacmi kütleline bölünerek

5. Nevzat: X ve Y'ye etki eden kaldırma kuvvetleri eşittir.



Oğuz: Yoğunlukları sıralaması $Z > Y > X$ şeklindedir.

Ali: Z'ye etki eden kaldırma kuvveti X'e etki eden kaldırma kuvvetinden küçüktür.

Yasin: Y'ye etki eden kaldırma kuvveti Z'ye etki eden

kaldırma kuvvetinden küçüktür.

Buna göre, hangi öğrencinin yorumu **yanlıştır**?

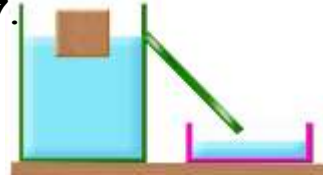
- A) Nevzat B) Ali C) Oğuz D) Yasin

6. Şekildeki cisim su dolu kaptta dengededir. Musluk açılıp kaba bir miktar su ekleniyor. Son durum için aşağıdakilerden hangisi **doğrudur**?



- A) Cisme etki eden kaldırma kuvveti artmıştır.
 B) Cismin batan hacmi artmıştır.
 C) Suyun yoğunluğu artmıştır.
 D) Cisme etki eden kaldırma kuvveti cismin ağırlığı kadardır.

7.



Taşırma kabına taşma seviyesine kadar su koyulup tahta parçası atıldığında şekildeki gibi dengede kalıp, bir miktar

su taşıyor.


Bu bilgilere göre aşağıdaki ifadelerden hangisi **yanlıştır**?

- A) Taşan sıvının ağırlığı cisme etki eden kaldırma kuvvetine eşittir
 B) Taşan sıvının ağırlığı cismin ağırlığına eşittir
 C) Cismin yoğunluğu sıvının yoğunluğundan küçüktür
 D) Taşan sıvının hacmi cismin hacmine eşittir

8. Aşağıda verilen durumların hangisinde katı maddenin sıvıda yüzmesi mümkün değildir?

- A) Sıvının kütlesi katının kütesinden küçük olduğunda
 B) Sıvının yoğunluğu katının yoğunluğundan büyük olduğunda
 C) Katının yoğunluğu sıvının yoğunluğundan büyük olduğunda
 D) Katının kütlesi sıvının kütesinden küçük olduğunda

	K	L	M
Havadaki ağırlığı	I	55	60
Sudaki ağırlığı	45	40	III
Kaldırma kuvveti	5	II	10



9. Tabloda K, L ve M cisimlerine ait bilgiler verilmiştir. Tabloya göre I, II ve III numaralı kısımlar sırasıyla hangi seçenekteki gibi olur?

- A) 40-15-50 B) 45-55-60
 C) 50-15-50 D) 40-15-40

10. F; kaldırma kuvvetini, G; ağırlığı simgelediğine göre aşağıdakilerden hangisi **yanlıştır**?

- A) $F > G$ ise; cisim suda yüzebilir.
 B) $F = G$ ise; cisim suda yüzebilir.
 C) $F = G$ ise; cisim suda askıda kalabilir.
 D) $F < G$ ise; cisim suda batabilir.