

Adı-Soyadı :

15/04/2014

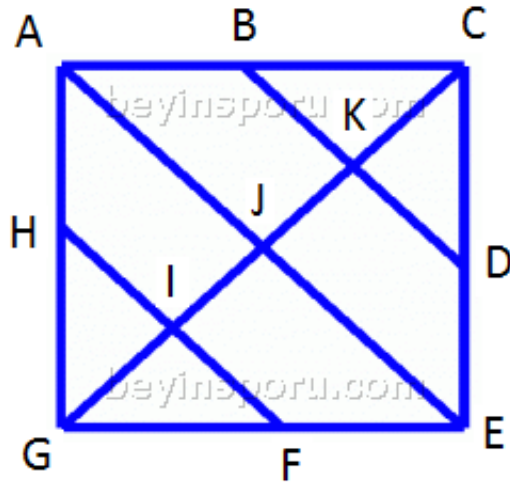
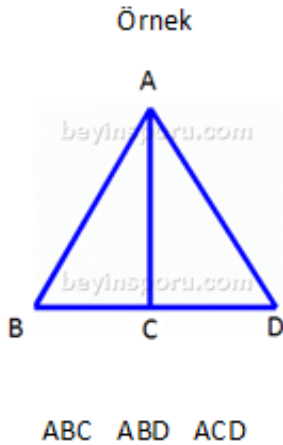
Sınıfı-No :

2014-2015 EĞİTİM ÖĞRETİM YILI İSHAKLI ORTAOKULU
7 SINIFLAR ZEKA OYUNLARI DERSİ II.DÖNEM I. YAZILI SORULARI

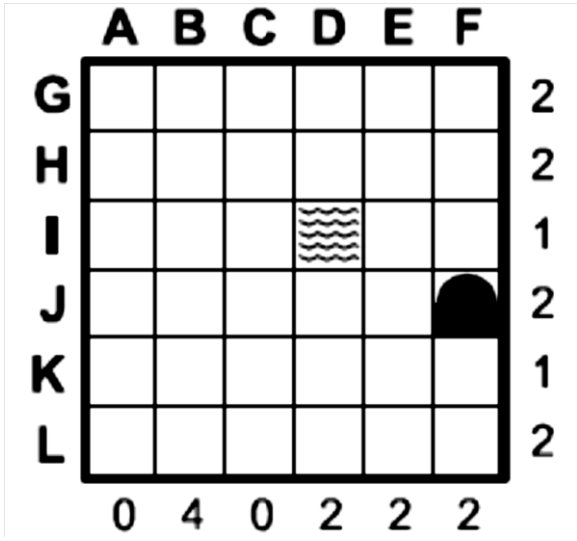
1-) Aşağıda verilen SUDOKU bulmacasını çözünüz.

		5		1	
2	1	3		5	
		4	1	6	5
1	5	6	4		
	3		5	4	1
	4		3		

2-) Aşağıda verilen şekilde bulunan üçgenleri yazınız.

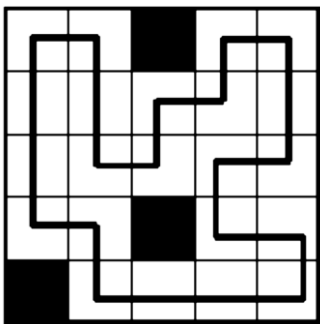


3-) Aşağıda verilen AMİRAL BATTI bulmacasını çözünüz. (Verilen gemi parçalarını satır ve sütunlarda verilen sayıları kullanarak, gemi parçaları çaprazdan dahi birbirine değmeyecek şekilde yerleştiriniz.)



4-) Aşağıda verilen PATİKA bulmacasını çözünüz. (Diyagramdaki beyaz hücrelerin tamamından yatay veya dikey ilerleyerek geçen ve kendisini kesmeyen kapalı bir yol çizin. Yol, siyah hücrelerden geçemez.)

Örnek:



5-) Aşağıda verilen **KELİMETÖR** bulmacasında istenenleri yazınız. (Karışık verilen harflerden anlamlı kelimeler yazınız.)

A	A	K	L	M	N	S	U
---	---	---	---	---	---	---	---

8 HARFLİ

--	--	--	--	--	--	--	--

7 HARFLİ

--	--	--	--	--	--	--

6 HARFLİ

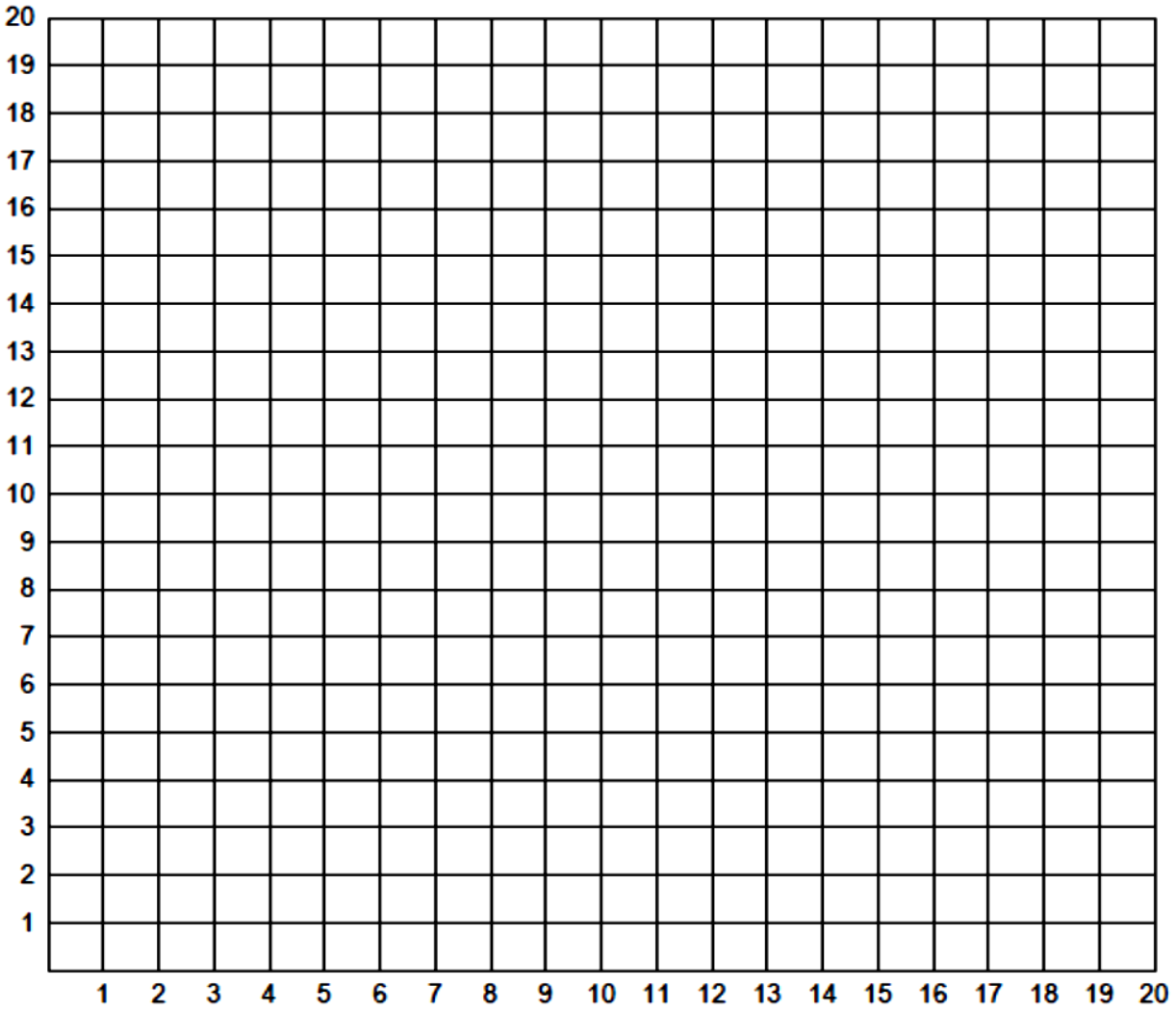
--	--	--	--	--	--

6-) Aşağıda verilen **DOMİNO YERLEŞTİRMECE** bulmacasını tamamlayınız. (Yanda verilen rakamları bulmacaya uygun olarak yerleştiriniz.)

1	1	2	5	5	4
3	5	4	4	4	3
2	4	1	5	2	2
2	1	1	3	3	2
3	4	1	5	5	3

1 1	2 2	3 3	4 4	5 5
1 2	2 3	3 4	4 5	
1 3	2 4	3 5		
1 4	2 5			
1 5				

7-) Aşağıda koordinatları verilen rakamları sistem üzerinde gösteriniz.



Line 1: (7,8), (7,0), (13,0), (13,4) **Line 2:** (8,7), (8,5), (9,5), (9,7), (8,7) **Line 3:** (9,12), (9,14), (10,15), (5,20), (3,18), (17,4), (15,2), (10,7), (11,8), (11,10) **Line 4:** (7,10), (7,12), (8,13) **Line 5:** (11,4), (12,4), (12,2), (11,2), (11,4) **Line 6:** (11,12), (13,12), (14,11), (19,16), (17,18), (3,4), (1,6), (6,11), (7,10), (9,10) **Line 7:** (13,12), (13,8) **Line 8:** (12,13), (11,14), (9,14)

BAŞARILAR DİLERİM
Halil YILMAZ
Ders Öğretmeni