

201..-201.. EĞİTİM ÖĞRETİM YILI ORTAOKULU
FEN BİLİMLERİ DERSİ 7.SINIF 1. DÖNEM 1. YAZILI SORULARI

Adı Soyadı	Sınıfı	No	Aldığı not
	7/.....		

1- Sindirim sisteminde besinlerin geçtiği organları sırasıyla yazınız. (10 puan)

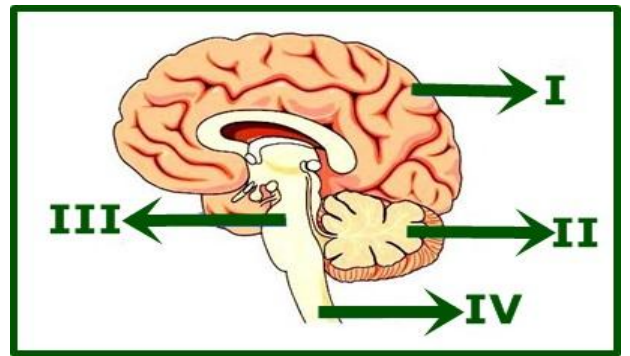
2- İnce bağırsağın sindirim ile ilgili görevlerinden iki tanesini yazınız. (10 puan)

3- Sindirim sisteminin sağlığını korumak için nelere dikkat etmeliyiz? 5 Madde yazınız. (10 puan)

4- Boşaltım sistemine yardımcı organları yazınız. (10 puan)

5- **Boşaltım sistemi** organlarını gösteren bir şekil çizerek kısımlarını yazınız. (10 puan)

6- I,II,III ve IV numaraları ile gösterilen kısımların adlarını yazınız.(10 puan)



I:.....
II:.....
III.....
IV:.....

7- "Refleks" terimini tanımlayarak 3 örnek veriniz. (10 Puan)

8- Hangi iç salgı bezinde çalışma düzeni bozulursa şeker hastalığı ortaya çıkar? Bu salgı bezinden hangi hormonlar salgılanır?

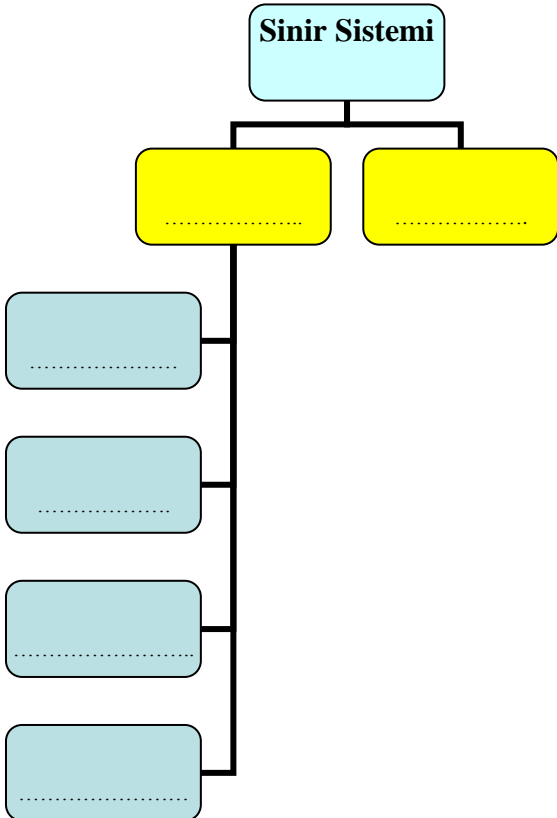
İç salgı bezinin adı:.....

Salgıladığı hormonlar:

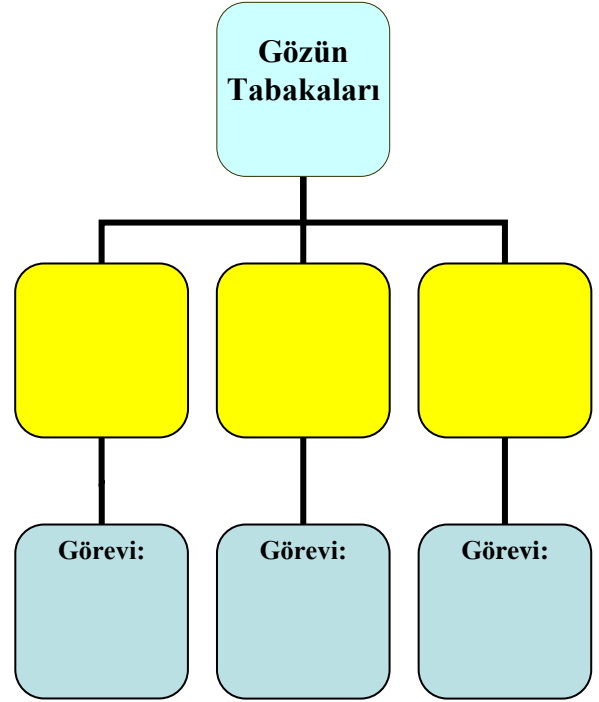
.....

.....

9- Aşağıda verilen şemayı uygun şekilde doldurunuz. (10 puan)



10- Aşağıda verilen "gözün tabakaları" ile ilgili şemayı uygun şekilde doldurunuz. (10 puan)



Süre 40 dakikadır. Başarılar.

.....
Fen Bilimleri Öğretmeni