









Aşağıdaki ifadelere ve resimlere bakarak doğru olan cevabı yuvarlak içine alınız.

<p>POTANSİYEL ENERJİ DE VAR. KİNETİK ENERJİ DE VAR.</p>  <p>DALDA DURAN BAYKUŞ</p> <p>POTANSİYEL ENERJİ DE YOK. KİNETİK ENERJİ DE YOK.</p>	<p>POTANSİYEL ENERJİ DE VAR. KİNETİK ENERJİ DE VAR.</p>  <p>DÜZ YOLDA KOŞAN AT</p> <p>POTANSİYEL ENERJİ DE YOK. KİNETİK ENERJİ DE YOK.</p>
<p>POTANSİYEL ENERJİ DE VAR. KİNETİK ENERJİ DE VAR.</p>  <p>YUKARI DOĞRU ÇEKİLEN BALIK</p> <p>POTANSİYEL ENERJİ DE YOK. KİNETİK ENERJİ DE YOK.</p>	<p>POTANSİYEL ENERJİ DE VAR. KİNETİK ENERJİ DE VAR.</p>  <p>AŞAĞIYA DÜŞEN YAĞMUR</p> <p>POTANSİYEL ENERJİ DE YOK. KİNETİK ENERJİ DE YOK.</p>
<p>POTANSİYEL ENERJİ DE VAR. KİNETİK ENERJİ DE VAR.</p>  <p>YERDE DURAN HALI</p> <p>POTANSİYEL ENERJİ DE YOK. KİNETİK ENERJİ DE YOK.</p>	<p>POTANSİYEL ENERJİ DE VAR. KİNETİK ENERJİ DE VAR.</p>  <p>KOMİDİN ÜZERİNDEKİ LAMBA</p> <p>POTANSİYEL ENERJİ DE YOK. KİNETİK ENERJİ DE YOK.</p>
<p>POTANSİYEL ENERJİ DE VAR. KİNETİK ENERJİ DE VAR.</p>  <p>DAĞA TIRMANAN DAĞCI</p> <p>POTANSİYEL ENERJİ DE YOK. KİNETİK ENERJİ DE YOK.</p>	<p>POTANSİYEL ENERJİ DE VAR. KİNETİK ENERJİ DE VAR.</p>  <p>ÇİM ÜZERİNDE DURAN GOLF TOPU</p> <p>POTANSİYEL ENERJİ DE YOK. KİNETİK ENERJİ DE YOK.</p>