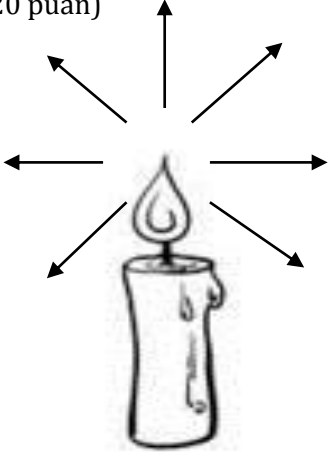


ADIN: ORTAOKULU 2014-2015 ÖĞRETİM YILI

SOYADIN: 6. SINIF FEN BİLİMLERİ 2. DÖNEM 1. BEP SINAVI SORULARI

SINIFIN:

1-Aşağıdaki şekillerden hangisi **İŞIĞIN** yayıldığını , hangisi **SESİN** yayıldığını anlatır?Altındaki noktalı yerlere yaz.(20 puan)



2-Aşağıda verilen maddelerden hangisinde düzgün yansımaya olur(baktığımızda kendimizi düzgün görürüz) ?(10 p)



A) MASA



B) AYNA




C) KAPI



D) PERDE

3-Aşağıdakilerden hangisi çiçekli bitkide üremenin gerçekleştiği yapıdır?(10puan)



A)ÇİÇEK



B)YAPRAK



C)EL



D)AYAK

4-Aşağıdaki canlılardan hangisi yumurtlar?(10p)



A)



B)

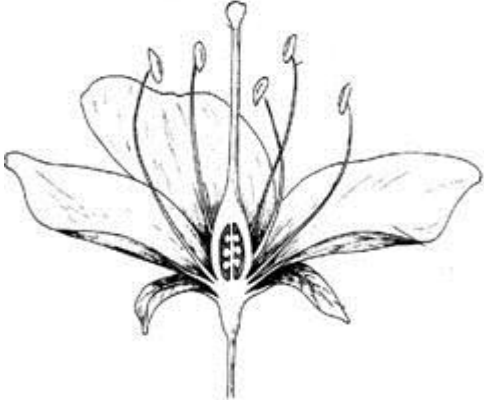


C)



D)

5-Aşağıdaki çiçekte hangi yapı **DİŞİ ORGAN** ve hangi yapı çiçeğin **SAPIDIR**? (ok işareti ile gösteriniz) (10p)



6-Aşağıdaki canlılardan hangisi yavrusunu dünyaya doğurarak meydana getirir?(10p)



7)Tohumun çimlenebilmesi için tohuma aşağıdakilerden hangisini sağladıysan

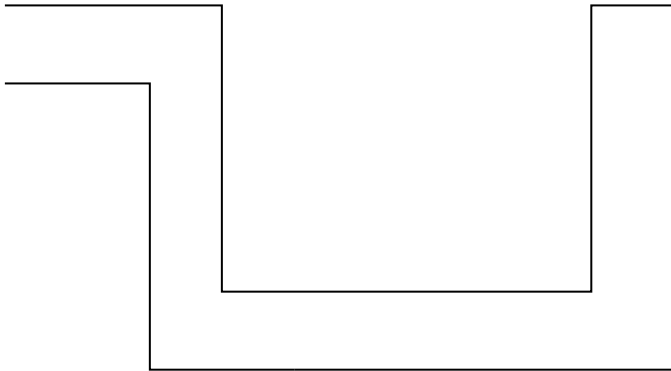
onları yuvarlak içine al(12p)

*SU *HAVA *YEMEK
*SICAKLIK * UYKU

8)Şekildeki gözün çiçeği görebilmesi için labirente düz aynaları yerleştir ve ışığın izlediği yolu çiz.(18p)

Çiçek

göz



BAŞARILAR... (Fen Bilimleri Öğrt.)