

ADI:

SOYADI:

SINIFI:

NO:

..... ORTAOKULU  
201..-201.. 2. DÖNEM 5.SINIF 3. FENBİLİMLERİ BEP SINAVI

1)Işık hangisinden geçemez?(10puan)

- A) Cam B) Hava C)Tahta

2) Ses nedir?(10puan)

- A) Enerjidir B) Maddedir C)Kuvvettir

3)Hayvanlar olmak üzere ikiye ayrılırlar.Buna göre noktalı yere  
aşağıdakilerden hangisi gelmelidir?(10puan)

Omurgalı .....

- A)Kılçıksız B) Omurgasız C)Kemiksiz

4) Bitkiler olmak üzere ikiye ayrılırlar.Buna göre noktalı yere  
aşağıdakilerden hangisi gelmelidir?(10puan)

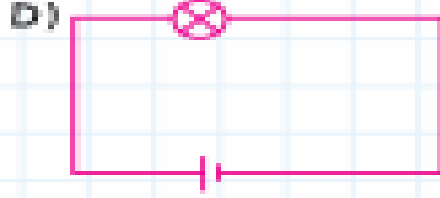
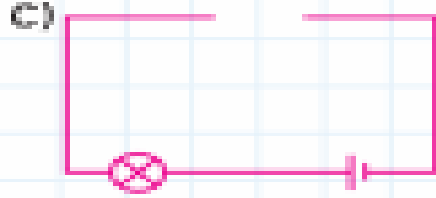
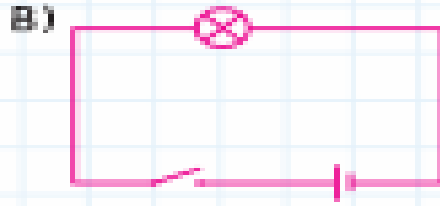
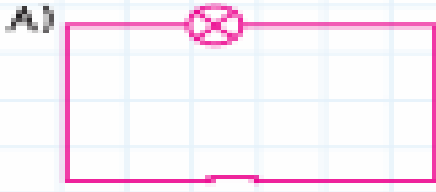
Çiçeksiz .....

- A)Çiçekli B) Köklü C)Yapraklı

5)Bir elektrik devresinde ışık veren devre elemanı hangisidir?(10p)

- A)Pil B) Ampul C)Anahtar


6) Aşağıdaki elektrik devrelerinden hangileri ışık verir?



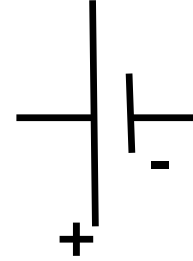
7)Aşağıda

verilen devre elemanları ile sembollerini eşleştiriniz.(20p)

PİL



AMPUL



ANAHTAR



BAĞLANTI KABLOSU



8) 2 ampul ve 1 pilden oluşan devre şeması çiziniz?(20p)