

Adı Soyadı:


Sınıfı: 5/

No:

Tarih:..../04/201...

201..-201.. EĞİTİM-ÖĞRETİM YILI ORTAOKULU
5.SINIF FEN BİLİMLERİ DERSİ 2.DÖNEM 2.YAZILI SORULARI BEP

1- Aşağıda ışığın bazı maddelerle olan etkileşimine ait örnekler verilmiştir. Resimlerin altındaki soruları cevaplayınız.




a) Hangileri ışık ışını tamamen geçirir?.....

b) Hangileri ışık ışını hiç geçirmez?.....

c) Hangileri ışık ışınının bir kısmını geçirir?.....

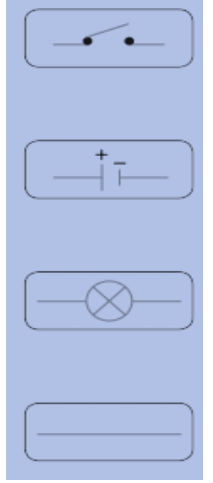
2- Aşağıda bulunan çiçekli bitkinin kısımlarını oklarla gösterilen yerlere yazınız.



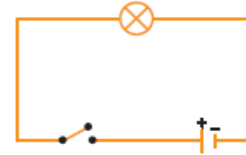
3- Aşağıdaki cümleler doğru ise D, yanlış ise Y harfi koyarak belirtiniz.

- () Penguenler sürüngendir.
- () Penguenler kuştur.
- () Penguenler balıktır.
- () Yarasalar kuştur.
- () Yarasalar memelidir.

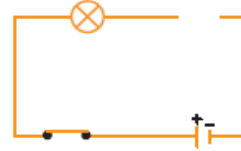
4-Aşağıdaki devre elemanları ile sembollerini eşleştiriniz(→



5- Fen Bilimleri dersinde, Sena, Kadir ve Zeynep'in kurduğu devrelerde ampullerin neden ışık vermeyeceğini belirtiniz.



Sena'nin kurduğu devre



Kadir'in kurduğu devre



Zeynep'in kurduğu devre

BAŞARILAR DİLERİM.

Sınav süresi 40 dakikadır.

.....
FEN BİLİMLERİ ÖĞRETMENİ