

Adı:

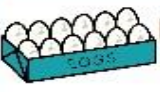









Soyadı:

Numarası:

Sınıfı: 5/

201.. – 201... EĞİTİM ÖĞRETİM YILI ..... ORTAOKULU  
BİLİM UYGULAMALARI DERSİ 5. SINIF 1. DÖNEM 1. YAZILI SORULARI

A. Aşağıda resimleri verilen besinleri özelliklerine göre ilgili bölüme yazınız. (8x3=24 Puan)

			
Yumurta	Mantar	Peynir	Biber
			
Domates	Et	Brokoli	Tereyağı
			
Bitkisel Besinler	Hayvansal Besinler		
1.....	1.....		
2.....	2.....		
3.....	3.....		
4.....	4.....		

B. Verilen besin içeriklerinin öncelikli görevlerini tabloda (X) koyarak işaretleyiniz. (5x3=15Puan)

	Yapıcı ve Onarıcı	Düzenleyici	Enerji verici
Karbonhidratlar			
Proteinler			
Yağlar			
Vitaminler			
Su ve mineraller			

C. Aşağıda verilen besin içeriklerine üçer tane örnek yazınız. (9x3=27 Puan)

Karbonhidratlar	Proteinler	Yağlar
1.....	1 .....	1 .....
2.....	2 .....	2 .....
3.....	3 .....	3 .....

D. Aşağıda verilen vitaminler ve vücudumuza faydalarını eşleştiriniz. (5x2=10 Puan)

C vitamini	K vitamini	E vitamini
A vitamini	D vitamini	

(...) Yaşlanmayı geciktirir, cildimize iyi gelir.

(...) Grip gibi hastalıklarda vücudumuza direnç sağlar.

(...) Kemiklerin ve dişlerin güçlenmesini sağlar.

(...) Görmemizi güçlendirir, dişlerimize iyi gelir.

(...) Kesiklerde kanın pıhtılaşmasını sağlar.

E. Aşağıda verilen cümlelerden doğru olanların başındaki kısma "D" yanlış olanlarınkine ise "Y" yazınız. (4x2=8 Puan)

(...) Besinlerin en küçük parçalara ayrılıp kana geçtiği organ ince bağırsaktır.

(...) Proteinlerin üzerine nitrik asit damlatıldığında sarı renk alır.

(...) Yutakta sindirim olayı gerçekleşir.

(...) Çok soğuk ve çok sıcak yemek diş sağlığına zararlıdır.

G. Aşağıdaki çoktan seçmeli soruları yanıtlayınız.

1. Besinlerin sindirim sisteminde hangi sırayla ilerler?(4 puan)

A) Ağız-Yutak-Yemek borusu-İnce bağırsak-Kalın bağırsak-Anüs

B) Ağız-Yemek borusu-Mide-İnce bağırsak-kalın bağırsak-Anüs

C) Ağız-Yutak-Mide-İnce bağırsak-kalın bağırsak-Anüs

D) Ağız-Yutak-Yemek borusu-Mide-İnce bağırsak-kalın bağırsak-Anüs



Hasan Öğretmen

Canlılar neden beslenir?

- I. Koşmak ve oyun oynamak için  
II. Büyümek ve gelişmek için  
III. Ders çalışmak için

Hasan öğretmenin sorduğu soruya yukarıda verilen cevaplardan hangisi ya da hangileri doğrudur?

A) Yalnız I

B) I ve II

C) II ve III

D) I, II, III

3-) "Ben dengeli besleniyorum." diyen bir kişi aşağıda verilenlerden hangisini yapmaktadır?

A) Her çeşit besinden yeterince tüketmektedir.

B) Hayvansal besinleri çokça tüketmektedir.

C) Et, süt, yumurta ve bal ile beslenmektedir.

D) Bol vitaminli yiyeceklerle beslenmektedir.

4) Aşağıdakilerden hangisi diş çeşidi değildir?

A) Azı dişi B) Kesici dişi C) Acı dişi D) Köpek dişi

NOT: Süre 40 dakikadır. Test soruları 4puandır.

BAŞARILAR.... / Fen Bilimleri Öğretmeni